

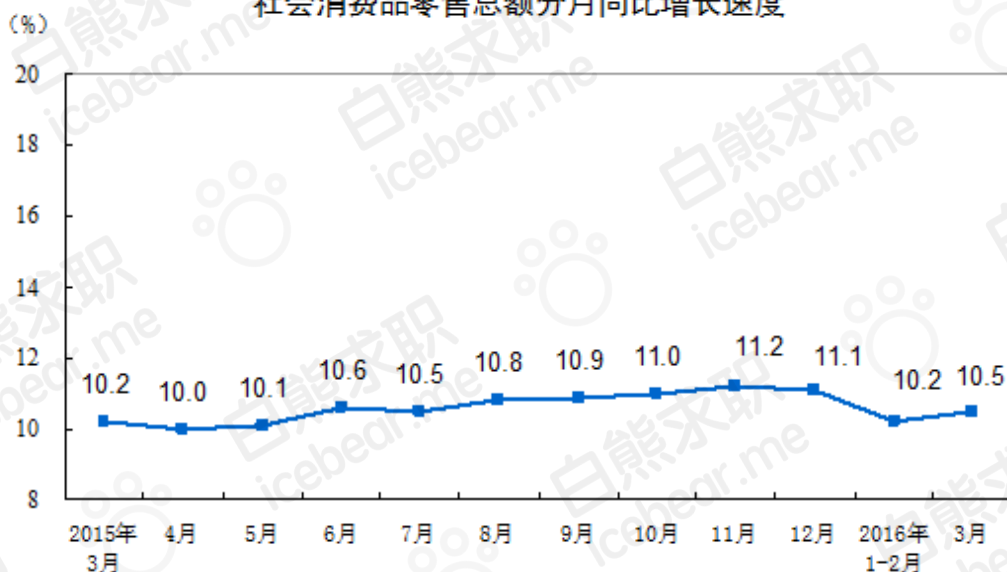


京东 2017 校招金融产品经理笔试试题

1. 【资料分析】2016 年 3 月份，社会消费品零售总额 25114 亿元，同比名义增长 10.5%（扣除价格因素实际增长 9.7%，以下除特殊说明外均为名义增长）。其中，限额以上单位消费品零售额 11717 亿元，增长 8.6%。

2016 年 1-3 月份，社会消费品零售总额 78024 亿元，同比名义增长 10.3%。其中，限额以上单位消费品零售额 34625 亿元，增长 8.0%。

社会消费品零售总额分月同比增长速度



按经营单位所在地分，3 月份，城镇消费品零售额 21616 亿元，同比增长 10.4%；乡村消费品零售额 3498 亿元，增长 11.1%。1-3 月份，城镇消费品零售额 66920 亿元，同比增长 10.2%；乡村消费品零售额 11105 亿元，增长 11.0%。

按消费类型分，3 月份，餐饮收入 2651 亿元，同比增长 11.4%；商品零售 22463 亿元，增长 10.4%。1-3 月份，餐饮收入 8302 亿元，同比增长 11.3%；商品零售 69722 亿元，增长 10.2%。

在商品零售中，3 月份，限额以上单位商品零售 11051 亿元，同比增长 8.7%。1-3 月份，限额以上单位商品零售 32579 亿元，同比增长 8.0%。

2016 年 1-3 月份，全国网上零售额 10251 亿元，同比增长 27.8%。其中，实物商品网上零售额 8241 亿元，增长 25.9%，占社会消费品零售总额的比重为 10.6%；在实物商品网上零售额中，吃、穿和用类商品分别增长 35.5%、16.0%和 29.5%。



2016年3月份社会消费品零售总额主要数据

指标	3月		1-3月	
	绝对量 (亿元)	同比增长 (%)	绝对量 (亿元)	同比增长 (%)
社会消费品零售总额	25114	10.5	78024	10.3
其中：限额以上单位消费品零售额	11717	8.6	34625	8.0
其中：实物商品网上零售额	-	-	8241	25.9
按经营地分				
城镇	21616	10.4	66920	10.2
乡村	3498	11.1	11105	11.0
按消费类型分				
餐饮收入	2651	11.4	8302	11.3
其中：限额以上单位餐饮收入	666	7.2	2046	6.7
商品零售	22463	10.4	69722	10.2
其中：限额以上单位商品零售	11051	8.7	32579	8.0
粮油、食品类	1095	13.1	3580	12.7
饮料类	148	9.4	475	9.8
烟酒类	296	7.9	1079	7.6
服装鞋帽、针纺织品	1058	4.4	3482	7.2
化妆品	195	9.2	548	10.6
金银珠宝	227	-9.3	758	-3.9
日用品	404	12.2	1218	10.9
家用电器和音像器材	666	6.0	1899	7.2
中西药品	688	19.8	1942	15.1
文化办公用品	239	3.8	654	7.4
家具	218	15.9	561	16.2
通讯器材	289	16.5	867	18.9
石油及制品	1537	0.3	4201	0.4
汽车	3076	12.3	8852	7.7
建筑及装潢材料	240	15.6	623	15.2

注：1.此表速度均为未扣除价格因素的名义增速；



2.此表中部分数据因四舍五入的原因,存在总计与分项合计不等的情况。

1、2015 年 3 月社会消费品总额名义与实际的差额为 ()。

- A. 166 亿元
- B. 201 亿元
- C. 177 亿元
- D. 199 亿元

2、2015 年 3 月至 2016 年 3 月社会消费品零售总额同比增长速度高于平均水平的月份共有 () 个。

- A. 5
- B. 6
- C. 7
- D. 8

3、在商品零售中,2015 年前两个月,限额以上单位商品零售额为 () 亿元。

- A. 22419
- B. 19115
- C. 19999
- D. 21528

4、2016 年 1-3 月份同比增长率最高的商品是 ()。

- A. 家具
- B. 建筑及装潢材料
- C. 日用品
- D. 通讯器材

5、2015 年 1-3 月份实物商品网上零售额占社会消费品零售总额的比重为 ()。

- A. 9.3%
- B. 11.7%
- C. 8.4%
- D. 9.6%

【参考答案】

A

解析: $25114 / (1+9.7\%) - 25114 / (1+10.5\%) = 166$



B

解析：根据图表 1 得出平均增长速度为 10.59，所以高于平均水平的月份为六个

C

解析：根据第五段文字，销售额=32579/（1+0.8%）-11051/（1+8.7%）=19999

D

解析：通过表 2 最后一列直接可以比较得出

A

解析：8241/(1+25.9%)/78024/(1+10.3)=0.093。

2. 【资料分析】瑞典隆德大学研究人员的一项研究表明，乌鸦和黑猩猩一样聪明，尽管乌鸦大脑体积要比黑猩猩小很多，但大脑神经元密度及其结构在智力的表现中发挥的重要作用不亚于黑猩猩。

认知科学博士生 Can 说：“大脑体积并不代表一切，我们发现鸦科鸟类尽管大脑体积较小，但智力与类人猿一样。”

智力很难测去判定，但智力在的某一方面的表现是控制动物本能且选择性做出理智行为的能力。2014 年，美国杜克大学研究人员做了一项大规模的研究，他们比较了 36 种不同物种（主要是灵长类动物和类人猿）在抑制控制实验中的表现，研究团队采用了圆筒测验，将食物放在两端开口的透明管内，动物面临的挑战是如何从开口的透明管侧边而不是直接从所看到的食物所在位置获取食物，动物们必须自我约束，并且能够采用更加有效的策略去获取食物。

这项大型研究结论是类人猿的表现最好，类人猿绝对的大脑体积优势似乎是智力表现最佳的关键因素。但是，他们并没有对鸟类进行圆筒测验。

因此，Can 和英国牛津大学、德国马克斯·普朗克鸟类研究所研究人员对乌鸦、寒鸦和新喀里多尼亚乌鸦进行了相同的圆筒测验，发现它们在圆筒测验中也有很好的表现。

动物的本能将会引导动物们从它们直观看到的食物所在位置去获取食物。首先，研究团队训练了这些鸟类从一根不透明管的开口尾端获取食物，之后他们再用一根透明管重现圆筒测验。然而，在每一次的圆筒测验中，乌鸦都选择了从透明管开口尾端进入管内取得食物。寒鸦和乌鸦的表现几乎与倭黑猩猩和大猩猩的表现一致。

“这表明尽管鸟类脑体积非常小，但它一样能干好用。研究结果表示，除了脑体积外还



有其它因素对动物智力表现也非常重要，如神经元密度。”Can 说道，“关于智力表现和大脑体积、鸟类大脑结构之间的关系，我们还有许多地方需要探索 and 了解，但这项研究无疑向我们证明了，‘笨鸟’可不笨。”

以下作为这篇文章标题最恰当的是（ ）。

- A. 聪明的乌鸦
- B. “笨鸟”不笨
- C. 小脑袋也有大智慧
- D. 和灵长类一样聪明的乌鸦

美国杜克大学研究人员进行“圆筒圆筒测验”是为了研究（ ）。

- A. 不同物种的智力水
- B. 不同物种的大脑体积
- C. 大脑体积对动物智力的影响
- D. 灵长类动物和类人猿获取食物的策略

以下对圆筒测验的陈述正确的是（ ）。

- A. 类人猿的表现最
- B. 鸦类的表现比灵长类好
- C. 大猩猩几乎每次都会从透明管开口微端取得食物
- D. 乌鸦从透明管开口尾端获取食物是本能导致的

根据文章内容以下推断正确的是（ ）。

- A. 乌鸦大脑的神经元密度比类人猿的
- B. 类人猿在圆筒试验中表现优秀的关键因素是大脑体积较大
- C. 智力表现与大脑体积并无关系
- D. 圆筒实验并不能明确说明大脑体积与智力的关系

根据文章内容以下推断错误的是（ ）。

- A. 圆筒实验中，动物获取食物的最佳位置是圆筒的“开口”处
- B. 动物的智力水平表现在“自我约束能力”
- C. 乌鸦在圆筒实验中表现“良好”得益于其“大脑结构”而不是脑体积
- D. 从开口尾端获取食物并是灵长类动物的本能



【参考答案】

C

解析：文章中讲述的是乌鸦大脑体积虽然小，但是智力表现却很优秀，所以 C 选项最为恰当。

A

解析：智力在的某一方面的表现是控制动物本能且选择性做出理智行为的能力，圆筒实验正是抑制控制实验。

C

解析：从文中“然而，在每一次的圆筒测验中，乌鸦都选择了从透明管开口尾端进入管内取得食物。寒鸦和乌鸦的表现几乎与倭黑猩猩和大猩猩的表现一致。”句得出。

D

解析：根据文章最后一句，实验只是证明了脑体积小的动物不一定笨，但并没有得出脑体积与智力的具体关系，故选择 D 选项。

B

解析：自我约束只是智力水平的一方面。

2. 【问答题】请结合自身所学，对我国现有的金融产品进行分析，并设计一款自己认为比较好的金融产品。

3. 【互联网金融知识】下列哪些互联网理财产品属于集支付，收益，资金周转于一身的理财产品？（ ）。

正确答案: A

- A. 苏宁零钱宝
- B. 腾讯微信理财通
- C. 人人贷优先理财计划
- D. 汇添富基金的现金宝

4. 【互联网金融知识】互联网通过三种方式改变金融业，其中不包括（ ）。

正确答案: C

- A. 去中介化
- B. 去精英化
- C. 去垄断化
- D. 跨界



5. 【互联网金融知识】互联网金融的跨界融合成为未来主要发展趋势，自如白条属于下列哪一类跨界融合产品？（ ）

正确答案: B

- A. 实现从融资项目源头到项目渠道再到项目实施的 360 度动态管控。
- B. 将资金、消费场景与用户刚性需求紧密结合形成完整产业链条
- C. 将平台的融资项目对象锁定为光伏产业链上的企业或个人
- D. 采用 DA 精算技术分析融资方特性并设置独立风险评估模块，以获得融资需求的合理性专业评估

6. 【互联网金融知识】相对于国内的互联网理财平台，美国无疑领先很多，老牌个人理财网站 mint，专注于用户投资行为的 SigFig 以及应用先进的技术手段和社交机制帮助每一个用户成为自己的基金经理的 Motinvesting，关于这些平台的共性以下哪些说法是不正确的？（ ）

正确答案: B

- A. 把互联网作为主要服务渠道
- B. 号召力强，具备大量的用户基础
- C. 采用自动、智能算法为用户提供服务，降低了服务成本
- D. 操作简单，用户不需要了解过多的金融知识就可以自己理财

7. 【互联网金融知识】下列不属于互联网金融产品的是（ ）。

正确答案: D

- A. 百发 100 指数基金
- B. 微信红包
- C. 国金证券佣金宝
- D. 平安银行新一贷

8. 【互联网金融常识】互联网金融是指利用互联网和移动通信技术等一系列现代信息科学技术实现资源的跨时空配置的一种新型金融服务模式，既包括互联网企业利用电子商务、社交网络等互联网技术开展金融业务，也包括传统金融机构利用互联网技术开展金融业务。以下关于互联网金融的背景分析，哪项是不正确的？（ ）

正确答案: A

- A. 政府不倡导以市场为导向发展互联网金融
- B. 居民收入增加，投资和融资的需求多样化



- C. 消费者的投资、融资和支付观念发生转变
- D. 国家层面上承认已有的互联网金融业态

9. 【互联网金融常识】下列答案中,哪个说法是正确的? ()

正确答案: B

- A. 京东白条和美国的 NextCard 业务模式相同
- B. 百度钱包比谷歌钱包更为成功
- C. 阿里巴巴的金融产品一直广受欢迎,包括其在光棍节正式上线的基金淘宝店
- D. 数银在线类似于金融产品超市,是近年来较具发展潜力的互联网金融公司。

10. 【互联网金融常识】2015 年 7 月 3 日,人人贷与民生银行就风险备用金托管达成协议。

根据协议,民生银行将对人人贷的风险备用金进行独立的托管,并针对风险备用金专户资金的实际进出情况每月出具托管报告。人人贷将于每月 10 日前公布上月底的风险备用金余额情况并提供民生银行出具的资金托管报告,以供用户监督。人人贷和民生银行的

合作,解决了什么问题? ()

正确答案: C

- A. 担保方综合实力强,风控能力强。
- B. 具备转账和支付功能,直销银行产品和客户可以共享。
- C. 有效解决了一直困扰网贷平台的资金风险问题。
- D. 可为合作伙伴提供大数据分析、云计算等各类云服务。

11. 【互联网金融常识】互联网金融业务品种繁多,有的互联网产品处于起步阶段,发展势头渐起,参与者较少,不确定因素较多。下列哪些互联网金融业务属于这一类产品? ()

正确答案: A

- A. 网络众筹融资
- B. 网络借贷
- C. 网络第三方支付
- D. 互联网保险

12. 【互联网金融常识】以下哪种互联网金融服务模式不属于京东金融的服务范畴? ()

正确答案: A

- A. 互联网金融安全
- B. 传统金融服务的互联网延伸
- C. 金融的互联网居间服务(第三方支付平台、P2P 网贷、众筹)



D. 互联网金融服务

13. 【市场营销知识】QQ、微信、淘宝、360 卫士的共同之处在于（ ）。

正确答案: C

- A. 为商家搭建平台
- B. 善于创造需求
- C. 为用户提供免费价值
- D. 玩饥饿营销、粉丝文化

14. 【市场营销知识】下面不属于网络营销优势的是（ ）。

正确答案: B

- A. 网络营销传播范围广、速度快
- B. 技术与安全问题
- C. 服务个性化
- D. 信息透明化

15. 【市场营销知识】以下哪种方法属于注重意识形态分析的方法？（ ）

正确答案: B

- A. 数据建模
- B. 用户行为模拟
- C. 小流量测试
- D. 用户数据细分

16. 【市场营销知识】以下哪种方式不属于满足用户需求的方式？（ ）

正确答案: D

- A. 提高现实，对现有产品进行改进
- B. 降低理想，降低用户对自身需求的期望值
- C. 转移需求，对现有产品进行价值转移，让用户发行自己的需求可以在现有产品中得到满足
- D. 改变策略，转战到其他领域

17. 【市场营销知识】当我们面对一个全新的产品设计任务时，数据很少，甚至没有现成的数据，这时候我们应该（ ）。

正确答案: A

- A. 进行 dig 挖掘，经常关注一些事物的本质，经常问为什么，经常去分解现有产品所提供



的服务

- B. 做加法，产品经理依靠自身的工作经验，和对产品设计理念的理解，可以提出新的需求
- C. 做减法，从这些林林总总的需求当中找出可实现的，有价值的需求，排除那些无意义，不可实现的需求
- D. 借鉴过去的经验。

18. 【市场营销知识】以下哪种用户需求分析方法是小米公司使用过的最具创造激励附加值的用户需求分析方法？（ ）

正确答案: C

- A. 案头研究
- B. 卡片分类法
- C. 参与式设计
- D. 可用性测试

19. 【市场营销知识】2014 年中信银行推出 9 分享悦的活动。消费者只要刷中信信用卡三次，每次消费满 100 元，就可以获得 9 个积分，而 9 个积分就能免费喝一杯星巴克。这个案例在线上并不算出名，但其线下参与人数已高达数百万人次，累计兑换权益超过三百万个。从 2012 年起中信就开始累积客户，在与高端商户合作方面不断发力，稳住老客户的同时也吸引了不少新客户，并且在一定程度上让合作双方都沉淀了活动品牌。这种营销方式属于（ ）。

正确答案: B

- A. 社交营销
- B. 捆绑营销
- C. 爆款产品营销
- D. 饥饿营销

20. 【市场营销知识】以下哪种方式属于从搜索结果排名看用户的需求？（ ）

正确答案: D

- A. 百度、360 的需求图谱分析
- B. 百度、360 指数下拉框
- C. 搜狗问答和贴吧
- D. 搜索引擎搜索关键词

21. 【市场营销知识】对于产品经理来说，以下哪种方式是性价比最高、效率最高的一种用



户调研方式? ()

正确答案: D

- A. 问卷调查、焦点小组、深访
- B. 利用公司内部的用户研究团队做大数据分析
- C. 聘请咨询、调研公司或专业团队进行调研分析
- D. 观察产品数据的变化、阅读用户在线反馈、不停的和用户交流

22. 【市场营销知识】下列哪些营销方式是互联网营销所特有的? ()

- A. 体验式营销
- B. 品牌营销
- C. 兴奋点营销
- D. 病毒式营销

正确答案: D

病毒营销模式来自网络营销,利用用户口碑相传的原理,是通过用户之间自发进行的,费用低的营销手段。

23. 【金融常识】我国 C 银行在香港,新加坡,波恩某国发行南非国家建设等值 20 亿美元的债券, C 银行将面临的 风险包括 ()。

正确答案: A

- A. 利率风险
- B. 投资风险
- C. 声誉风险
- D. 没有风险

24. 【金融常识】S 公司因业务需要,采用融资租赁的方式购置一批设备, S 公司向 W 租赁公司提供原已购设备的发票,将设备所有权转让给 W 租赁公司,保留设备使用权。W 租赁公司在取得设备所有权后,一次性向 S 公司支付转让款。租期内, S 公司按月向 W 租赁公司支付租金。S 公司与 W 租赁公司之间的融资租赁业务属于 ()。

- A. 联合租赁
- B. 直接租赁
- C. 委托租赁
- D. 回租

正确答案: D

回租是指出卖人和承租人是同一人的融资租赁。



25. 【金融常识】20 世纪 50 年代，德国马克的国际化是因为（ ）。

- A. 德国是当时的制造强国，对外贸易需求量大
- B. 德国人做事认真严谨，值得信赖，德国马克得到广泛认可
- C. 德国银行具备国际竞争力
- D. 德国马克可以自由兑换，并且该货币在国际上的信誉度较高

正确答案: D

一国货币成为国际货币有赖于该国货币可以自由兑换并且信誉度高。

26. 【金融常识】越南政府最早于 1946 年在解放了的北方地区发行了首批越南盾。在 1951 年和 1958 年越南两次进行货币改革，分别用 1 个新币兑换 100 和 1000 个旧币。上个世纪 80 年代中期，越南进行的物价货币工资同步改革不成功引起了物价以 3 位数的速度飞涨。1985 年 9 月越南盾再次发行新币，以 1 个新的越南盾兑换旧的 10 个越南盾。越南政府的做法会造成（ ）。

- A. 越南货币升值
- B. 加大货币的流通速度
- C. 通货膨胀
- D. 从总体上提高越南货币兑换外币的能力

正确答案: C

通货膨胀，一般定义为：在信用货币制度下，流通中的货币数量超过经济实际需要而引起的货币贬值和物价水平全面而持续的上涨。

27. 【金融常识】朱丹为丈夫刘猛买了 20 万元人寿保险，保险公司代理人为林霞，指定受益人为朱丹夫妇的儿子刘正，如果朱丹想变更受益人，必须征求（ ）的意见。

- A. 保险公司
- B. 刘猛
- C. 刘正
- D. 林霞

正确答案: B

在个体保险中，只有投保人和被保险人有权变更受益人，但投保人在变更受益人时，需要征得被保险人的同意。

28. 【金融常识】张女士年满 35 岁，期望 55 岁退休时，养老金对个人退休前月薪的替代



率为 80%，张女士现在的月薪为 6000 元，预计工作最后一个月的月薪为 9000 元，退休后张女士每月可领取的国家基本养老金为 2900 元左右。如果要达到张女士对这一替代率的期望，张女士退休后每月养老金的缺口是（ ）。

- A. 1800 元
- B. 3175.58 元
- C. 3500 元
- D. 4300 元

正确答案: D

个人退休前月薪的替代率 80%，退休时工资为 9000 元，退休后的期望收入是 $9000 \times 80\% = 7200$ 元，基本养老金是 2900 元，缺口为 $7200 - 2900 = 4300$ 元。

29. 【金融常识】E 公司股票市价为每股 6 元，总共有 1000 万股在外流通，如果现在按 4:1 的比例进行配股，配股股价为 3 元每股，那么，流通股数量和股票价格分别变为（ ）。

- A. 3.6
- B. 4.1
- C. 4.8
- D. 5.4

正确答案: D

流通股数量变为： $1000 \text{ 万股} \times (1 + 1/4) = 1250 \text{ 万股}$ ，股票价格变为： $(1000 \times 6 + 3 \times 1000/4) / 1250 = 5.4$ （元）。

30. 【金融常识】李先生自己经营一家小超市，预计 2016 年李先生通过经营该超市得到的收入是 300000 元，经营成本 200000 元(包括李先生的工资每月 8000 元)，请估算李先生应缴纳的个人所得税应该是（ ）。

- A. 24350
- B. 29250
- C. 17450
- D. 7650

正确答案: A

应缴税所得额为 $300000 - (200000 - 6000 \times 12) - 3500 \times 12 = 106000$ ，应缴税额为 $106000 \times 35\% - 14750 = 22350$ 。

31. 【金融常识】总的来说，我国中央银行 2015 年使用存款准备金率工具，其主要想达到的目的是（ ）。



- A. 促进人民币升值
- B. 对商业银行施加强制影响力
- C. 促进投资规模的上涨
- D. 实施紧缩的货币政策

正确答案: C

2015 年央行降低 5 次存款准备金率，是为了促进投资规模的上涨，刺激经济发展。

32. 【金融常识】现有 A 机构向 B 机构出售了 50 万份证券，每份证券的价格是 20 元，双方约定在一年以内的时间里，A 机构将全部回购这 50 万份证券，每份证券的回购价格为 22 元，那么，这种证券回购交易属于（ ）。

- A. 货币市场
- B. 票据市场
- C. 资本市场
- D. 股票市场

正确答案: A

货币市场主要包括同业拆借市场、票据市场和证券回购市场等。

33. 【金融常识】有一个投资组合由 4 种证券组成，在投资组合中所占投资权重各为 20%、10%、40%、30%，且各自的预期收益率相对应为 15%、10%、30%、20%，这个投资组合的预期收益率是（ ）。

- A. 10%
- B. 15%
- C. 20%
- D. 22%

正确答案: D

$20\% \times 15\% + 10\% \times 10\% + 40\% \times 30\% + 30\% \times 20\% = 25\%$ 。

34. 【金融常识】下列不属于个人所得税的征税项目的是（ ）。

正确答案: A

- A. 保险赔款所得
- B. 股息，红利所得
- C. 个人工资收入
- D. 特许权使用费所得



35. 【金融常识】以下关于利率的说法正确的是 ()。

正确答案: C

- A. 利率不能影响社会资本供给
- B. 利率无法调节投资
- C. 利率可以调节社会总供求
- D. 利率无法影响个人的经济行为

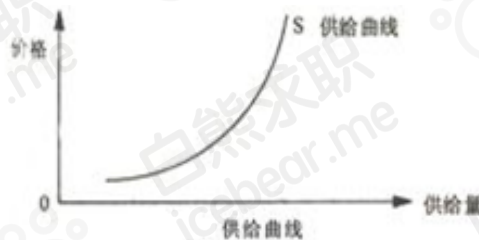
36. 【金融常识】设某一时点我国流通中现金为 10000 亿元, 居民活期储蓄存款 20000 亿元, 居民定期储蓄存款 40000 亿元, 农村存款 8000 亿元, 企业活期存款 9000 亿元, 企业定期存款 7000 亿元, 机关团体部队存款 6000 亿元, 其他存款 4000 亿元。试计算 M1 层次货币供应量。

- A. 42000 亿元
- B. 33000 亿元
- C. 60000 亿元
- D. 136000 亿元

正确答案: B

$$M1 = 20000 + 12000 + 11000 + 9000 = 52000 \text{ (亿元)}$$

37. 【金融常识】已知某苹果种植农户的供给曲线不变, 以下哪个因素不一定保持为常数? ()



- A. 土地的肥沃程度
- B. 苹果的价格
- C. 苹果的种植面积
- D. 苹果的种植技术水平

正确答案: B

供给曲线是根据供给表中的商品的价格—供给量组合在平面坐标图上所绘制的一条曲线。随供应量的变化而变化, 供应量不一定是常数, 因此价格不一定是常数。



38. 【金融常识】 张先生想要把 A 商品用来兑换 B 商品，对于张先生来说 A 代替 B 的边际替代率为 5，李先生想要把 B 商品用来兑换 A 商品，对于李先生来说 B 替代 A 的边际替代率为 4，如果张先生要跟李先生进行商品兑换，那么（ ）。

- A. 张先生用 5 单位 B 向李先生交换 4 单位
- B. 张先生用 A 向李先生交换 B
- C. 张先生用 B 向李先生交换 A
- D. 张先生和李先生不会交换商品

正确答案: A

边际替代率是指消费者在保持相同的满足程度或维持效用不变的情况下，增加一单位某种商品的消费数量时所放弃的另一种商品的消费数量。

39. 【金融常识】 发展中国家的主要经济特征是贫困是指（ ）。

- A. 类似于富裕国家前资本主义时期的贫困
- B. 国民生产总值的增长速度高
- C. 通过追随发达国家经济发展的道路而可以解决的贫困
- D. 贫富收入差距比发达国家中的差距更大

正确答案: D

发展中国家的贫困是指国民生产总值增长速度慢，贫富收入差距比发达国家中的差距更大。

40. 【金融常识】 政府对某些农产品实施最高限价政策时，最可能导致的情况是（ ）。

正确答案: B

- A. 刺激生产增加
- B. 出现市场短缺
- C. 提高农业生产者收入
- D. 引起产品供应过剩

41. 由于最高限价低于均衡价格，因此会刺激消费，限制生产，导致供给减少和需求增加，如果就是市场短缺。

- A. 刺激生产增加
- B. 出现市场短缺
- C. 提高农业生产者收入
- D. 引起产品供应过剩

正确答案: B



由于最高限价低于均衡价格，因此会刺激消费，限制生产，导致供给减少和需求增加，如果就是市场短缺。

42. 【金融常识】如果消费者的收入增加了 30%，而消费者对商品 A 的需求同时也增加了 20%，则该商品属于（ ）。

- A. 低档品
- B. 必需品
- C. 高档品
- D. 奢侈品

正确答案: B

$E_y = \text{需求量的变动} / \text{消费者的收入变动} = 20\% / 30\% = 0.67$, $E_y < 1$, 则表示该商品是必需品。

43. 【金融常识】以下关于经济的描述中，错误的说法是（ ）。

- A. 宏观经济学研究经济波动经济增长、就业等经济规律
- B. 宏观经济学研究价格理论、生产理论等经济规律
- C. 微观经济学研究福利经济学、场上均衡理论等经济规律
- D. 微观经济学研究收入分配理论、一般均衡理论等经济规律

正确答案: B

微观经济学研究单个经济单位，主要包括价格理论，消费者行为理论，生产理论，成本理论，场上均衡理论，收入分配理论，福利经济学和一版均衡理论等。

44. 【逻辑部分】根据图形规律，填入问号处的图形应该是（ ）。



①



②



③



④

- A. ①
- B. ②
- C. ③



D. ④

正确答案: A

图一中三个小图都有两块相同的阴影部分，所以只有 A 选项符合。

45. 【逻辑部分】根据图形规律，填入问号处的图形应该是（ ）。



①

②

③

④

A. ①

B. ②

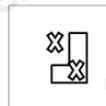


C. ③

D. ④

正确答案: D)

一笔画图形

46. 【逻辑部分】根据图形规律，填入问号处的图形应该是（ ）。



①

②

③

④

A. ①

B. ②

C. ③

D. ④

正确答案: B



每一行都有一个黑的、一个白的在 L 上，下一行黑的比上一行少一个，白的多一个。

47. 【逻辑部分】根据下列数字规律，应填入括号处的数字是（ ）。

3, 0, 6, 6, 18, ()

- A. 24
- B. 30
- C. 36
- D. 44

正确答案: B

48. 【逻辑部分】根据下列数字规律，应填入括号处的数字是（ ）。

10, 5, 25, 35, (), 155

正确答案: D

- A. 55
- B. 75
- C. 105
- D. 85

49. 【逻辑部分】根据下列数字规律，应填入括号处的数字是（ ）。

6, 12, 16, 26, 40, ()

正确答案: D

- A. 48
- B. 52
- C. 56
- D. 64

50. 【逻辑部分】根据下列数字规律，应填入括号处的数字是（ ）。

-4, 7, 2, 25, (), 187

正确答案: C

- A. 28
- B. 47
- C. 56
- D. 88

51. 【逻辑部分】某公司在招聘员工过程中，对 ABCDEF 六名应聘人员是否最终录用尚无



定论，经综合各部门意见，人事部门确定如下方案：(1)A 和 B 至少录用一个；(2)如果 C 或 D 有一个不被录用，则 A 也不能录用；(3)如果 C 不能录用，那么 F 也不能录用；(4)只有录用 E，才能录用 B，人事部最终决定 E 不能被录用，以下选项（ ）说法正确。

正确答案: A

- A. 无法确定 F 是否录用
- B. A 不能录用
- C. 无法确定 C 和 D 能否录用
- D. B 可以录用

52. 【逻辑部分】凡是有利于社会和谐的习俗都必须弘扬，凡是不利于社会和谐的习俗都必须摒弃。由此可以推断出（ ）。

正确答案: C

- A. 凡是弘扬的习俗都有利于社会和谐
- B. 凡是必须摒弃的习俗都不利于社会和谐
- C. 有些不利于社会和谐的习俗不应该弘扬
- D. 有些对社会和谐没有影响的习俗必须摒弃

53. 【逻辑部分】早晨上学时小洁、小丽、小美、小花四个人中有一个人迟到了，老师在询问情况时迟到，她们是这样回答的：

小洁：小丽迟到了

小丽：我不仅没迟到，还把黑板擦了

小美：我是来的比较晚，但是在铃声响之前就进教室了

小花：小美没有迟到，但是我迟到了

如果她们中只有一个人说谎，则以下哪项成立（ ）。

正确答案: D

- A. 小洁迟到了
- B. 小丽迟到了
- C. 小美迟到了
- D. 小花迟到了

54. 【数字部分】有一种瓷砖长 80 厘米，宽 60 厘米，如果想用这种瓷砖拼成一块正方形，该正方形最小的面积是（ ）平方分米。

正确答案: B

- A. 2304



- B. 576
- C. 288
- D. 144

55. 【数字部分】某公司财务部有 5 人，人力资源部有 7 人，销售部有 13 人，公司年终评选优秀员工，至少评选（ ）人，才能保证有优秀员工来自相同的部门？

正确答案: D

- A. 25
- B. 13
- C. 3
- D. 4

56. 【数字部分】3 名小学毕业生有 4 所不同的中学可以选择，不同的结果有（ ）种。

正确答案: C

- A. 7
- B. 12
- C. 64
- D. 81

57. 【数字部分】某贸易公司购入 60 件 A 商品和 100 件 B 商品进行销售，共花去 2400 元，销售时，A 商品加价 20%，B 商品加价 15%，全部销售完毕时获利 420 元，A 商品和 B 商品的买入价分别为（ ）元。

正确答案: A

- A. 20, 12
- B. 12, 20
- C. 15, 15
- D. 18, 13.2

58. 【数字部分】某化工厂备有浓度为 50%和 5%的两种硫酸溶液，现客户需要的硫酸浓度为 25%，为满足客户要求，需要将 100 千克 50%的硫酸溶液中加入（ ）千克 5%的溶液。

正确答案: D

- A. 100
- B. 115



- C. 120
- D. 125

59. 【数字部分】一家三口中，父亲年龄是儿子的6倍，母亲比父亲小2岁，三口人的年龄和是76岁，母亲今年（ ）岁。

正确答案: B

- A. 36
- B. 34
- C. 30
- D. 28

60. 【数字部分】一条路如果由甲乙两个工程队共同修，需要30天。甲工程队单独修了5天后，乙队与甲队共同修了6天，而后乙队调走，甲队又单独修了35天才完成。若自始至终，由甲队单独修路，则需要（ ）天。

正确答案: B

- A. 45
- B. 50
- C. 55
- D. 60

61. 【数字部分】甲的工作是每4天休息一天，乙是每5天休息一天，丙是每6天休息一天，如果甲乙丙在某个星期一同时休息，那么下次同时休息是（ ）。

正确答案: C

- A. 星期日
- B. 星期六
- C. 星期五
- D. 星期四

62. 【数字部分】AB两人在400米的环形跑道上练习跑步，A的速度为4.8米/秒，B的速度为4米/秒，A跑（ ）圈后可以领先小陈一圈。

正确答案: C

- A. 10
- B. 8
- C. 6



D. 5

63. 【数字部分】某银行咨询专员，周一接听电话 83 个，周二接听电话 74 个，周三接听电话 71 个，周四接听电话 64 个，为了完成本周工作量，周五接听的电话比这一周日平均量还多 3.2 个，该咨询专员周五接听了电话（ ）个。

正确答案: C

- A. 74
- B. 75
- C. 77
- D. 80

64. 【言语部分】以下四个句子中语义通顺没有语病的一项是（ ）。

正确答案: A

- A. 有一点我们必须清楚地认识到，城市廊道建设，可促进大气良性循环，缓减雾霾和“热岛效应”影响，但并不能根治雾霾。
- B. 当今已经很少有人会像以前那样的闲情逸致，拿出信纸，给恋人写一封充满浓情爱意的信了。
- C. 我县气象局组织人员到县劳动广场开展了以“直面更复杂多变的气候”为主题的活动的宣传。
- D. 我们的产品安全、无毒、时尚、精致美观，深受广大消费者所喜爱。

65. 【言语部分】以下四个句子中语义通顺没有语病的一项是（ ）。

正确答案: B

- A. 对于色情赌博场所必须坚决打击取缔，否则任其泛滥下去，结果不堪设想。
- B. 落实各级政府管理、监督、教育等责任，切实保护和关爱农村留守儿童，是各级政府义不容辞的责任。
- C. 无论做任何事只有我们坚持不懈，就一定会取得成功，这只不过是时间早晚的事。
- D. 天灰蒙蒙的，又阴又冷，在长安街两旁的人行道上挤满了为总理送行男女老少。

66. 【言语部分】将下列各句重新排列组合：

- (1) 在造成交通拥堵的同时，汽车排放的尾气弥漫大街小巷。
- (2) 于是，在节假日，人们纷纷走出城市到郊外的公园绿地，去那里呼吸清新的空气。
- (3) 随着城市中的汽车越来越多。



(4) 怪异的气味令人头昏、恶心，影响人的身心健康。

排列组合最连贯的一项是 ()。

正确答案: C

- A. 4-2-3-1
- B. 3-4-1-2
- C. 3-1-4-2
- D. 4-1-3-2

67. 【言语部分】将下列各句重新排列组合：

- (1) 两国领导人就构建不冲突不对抗、相互尊重、合作共赢的新型大国关系达成重要共识。
- (2) 这样的局面来之不易，需要双方倍加珍惜、共同维护。
- (3) 在此基础上两军各领域交流合作不断深化，并构建了相关互信机制。
- (4) 开辟了发展两国关系唯一正确的道路。

排列组合最连贯的一项是 ()。

正确答案: A

- A. 1-4-3-2
- B. 1-4-2-3
- C. 1-2-3-4
- D. 1-3-4-2

68. 【言语部分】吸烟不仅危害吸烟者自己，也会危害吸烟者周围的人。据曼尼托巴省医学会所言，二手烟是导致可预防性死亡的第三大主因（仅跟吸烟和喝酒之后）。他们还声称，烟中含有 4000 多种化学物质，其中已知有 50 种与癌症有关。二手烟已被和心脏疾病及呼吸道疾病、肺癌，乳腺癌、宫颈癌以及鼻窦癌、中风及流产联系在一起。吸烟对孩子的危险包括婴儿猝死综合征、胎儿发育障碍、支气管炎、肺炎、哮喘及中耳疾病，还有一些长期或短期的健康问题。非吸烟者没必要承担吸烟导致的恶果。下列各项符合文意的是 ()。

正确答案: C

- A. 吸烟的人不会受到二手烟的危害
- B. 心脏疾病、呼吸道疾病、多种癌症都是由二手烟引起的
- C. 戒除香烟有助于胎儿的健康发育
- D. 二手烟的危害要比吸烟大



69. 【言语部分】人类最高的存在方式应该是美的存在，甚至美就是人生的目的。人生，其实就是模仿美。人是在对美的追求中成为人的。而诗歌和文字正是使人类区别于其他物种的标志之一，所以应该成为人类的追求方向和目标。针对这段文字，以下说法不正确的是（ ）。

正确答案: D

- A. 追求美是人类和其他物种的区别
- B. 诗歌和文字是追求美的体现
- C. 追求美的过程是人类自我实现的过程
- D. 人生就是模仿的过程

70. 【言语部分】邮驿是官府的通信组织，只许传送官府的文件，而不允许传送私人信件。由于生产的发展和生活的需要，人们对通信的要求越来越迫切，出外经商的、做工的以及战乱年代被迫出征的战士和远离家乡逃荒避难的人们，都需要和家人亲友通信。特别是各地商人，为了互相交流商情、商谈贸易、寄递账单等都迫切需要通信。于是民间传递信件的业务就应运而生了。这段话主要阐述了（ ）。

正确答案: C

- A. 邮驿的发展
- B. 邮驿和民间传递信件的区别
- C. 民间传递信件业务的产生原因
- D. 民间传递信件的优势

71. 【言语部分】填入括号内最为恰当的一组词语是（ ）。

- (1) 三年前他来找过我一次，（ ）他去了美国，从此杳无音讯了。
- (2) 民警小张办事稳重又有责任心，是附近遇到困难居民最值得（ ）的人。

正确答案: B

- A. 而后 信赖
- B. 尔后 信赖
- C. 而后 信任
- D. 尔后 信任

72. 【言语部分】填入括号内最为恰当的一组词语是（ ）。

- (1) 为了更好地服务于民，我县为村官（ ）权力清单，让村官阳光用权不乱为。
- (2) 专家提醒广大股民，股市风云（ ），价格难以预期，投资一定要谨慎。



正确答案: C

- A. 制订 变换
- B. 制定 变换
- C. 制定 变幻
- D. 制订 变幻

73. 【言语部分】填入括号内最为恰当的一组词语是（ ）。

- (1) 天下人（ ）是傻子,也能想得到,这件事情和刘某有着千丝万缕的联系。
- (2) 本市成立联合督查组对蓝天工程重要举措落实情况开展党政联合督查,对落实（ ）的问题进行了通报。

正确答案: B

- A. 纵然 不利
- B. 纵然 不力
- C. 固然 不利
- D. 固然 不力

内推 招聘岗位 资料包 课程 社群

进入腾讯阿里的简历模板
互联网校招笔面试真题
数据分析资料包
2000份行业研究报告
... ..
近30份实用资料等你拿!

扫码关注校招日历