



## 京东 2017 校招视觉设计-交互设计笔试卷

1. 【认知心理学】人们对环境信息进行收集、组织、贮存、回忆、并对其空间方位和特征属性加以编码的产物，通常被称之为（ ）。

正确答案: A

- A. 认知地图
- B. 记忆空间
- C. 思维导图
- D. 知识结构图

2. 【认知心理学】两种对个体都具有吸引力的目标同时出现，形成强度相同的二个动机，个体往往会表现出难于取舍的矛盾心理，这被称为双趋冲突。属于这种冲突的是（ ）。

正确答案: C

- A. 想吃鱼又怕鱼刺
- B. 前遇大河，后有追兵
- C. 既想观看高水平的球赛，又不想影响考试
- D. 择业时有两个单位可供选择，而每个单位又利弊相当

3. 【认知心理学】李某在单位能够感受到身边人的关怀，能够得到同事的支持与赞许，能够寻找及建立和谐温馨的人际关系。根据马斯洛的理论，满足该员工哪方面需求的激励最有效？（ ）

正确答案: C

- A. 安全需求
- B. 社交需求
- C. 尊重需求
- D. 自我实现需求

4. 【认知心理学】记忆是人脑对经验过事物的识记、保持、再现或再认，它是进行思维、想象等高级心理活动的基础。个体无意识的情况下，过去经验对当前作业产生的无意识影响，被称为（ ）。

正确答案: A

- A. 内隐记忆
- B. 情景记忆
- C. 程序性记忆



D. 陈述性记忆

5. 【认知心理学】审美需求是指在日常生活中每一个人所追求的精神享受。当我们接触任何一件有存在价值的事物时，它必定具备（ ）的内容和形式。

正确答案: A

- A. 合乎逻辑
- B. 简约务实
- C. 大方美观
- D. 符合大众审美

6. 【认知心理学】拥挤感是个人空间和私密性受到侵犯造成的，而这种侵犯又是通过知觉感知的，所以对密度的知觉是问题的关键。以下哪项做法不能有效减少拥挤感？（ ）

正确答案: C

- A. 减少人们眼睛之间的接触
- B. 减少环境信息输入
- C. 减少行为选择的可能性
- D. 减少相互接触

7. 【认知心理学】遗忘曲线由德国心理学家艾宾浩斯(H.Ebbinghaus)研究发现，描述了人类大脑对新事物遗忘的规律。那么根据该规律，学习时的第一个记忆周期是（ ）。

正确答案: A 你的答案: 空 (错误)

- A. 5 分钟
- B. 30 分钟
- C. 1 小时
- D. 2 小时

8. 【认知心理学】19 世纪末，法国园艺学家莫尼哀从植物的盘根错节想到水泥加固的例子。这体现的思维是（ ）。

正确答案: B

- A. 逆向思维
- B. 侧向思维
- C. 纵向思维
- D. 多路思维



9. 【认知心理学】心理学家进行记忆实验，实验要求被试从词的物理特性、听觉特性、语义特性和自我参照四个角度对词表进行加工并记忆。哪种做法的记忆效果最好？（ ）

正确答案: D

- A. 物理特性
- B. 听觉特性
- C. 语义特性
- D. 自我参照

10. 【认知心理学】不同的色彩给人的心理与给人的影响不同，在色彩学中，把不同色相的色彩分为热色、冷色和温色。以下颜色中最热的是（ ）。

正确答案: C

- A. 紫
- B. 红
- C. 橙
- D. 黄

11. 【认知心理学】最佳视野俯角”是指人们在写字、看书、工作时使眼睛保持最轻松舒服的观看角度。人的最佳视野俯角是以人眼向前平视 90 度为标准（ ）。

正确答案: A

- A. 向下倾斜 15--40 度
- B. 向上倾斜 15--40 度
- C. 向左倾斜 5--10 度
- D. 向下倾斜 5--10 度

12. 【认知心理学】阈限是使个体产生感觉的刺激水平，人能明确感觉到的刺激，其强度必须处于一定范围内。每种感受器只能接受一定强度的适宜刺激，这种能引起人体产生感觉的最小刺激水平被称为（ ）。

正确答案: B

- A. 差别阈限
- B. 绝对阈限
- C. 最小阈限
- D. 一般阈限

13. 【认知心理学】感觉与知觉是心理学里两个较为基础的概念，它们之间既有联系也有区



别。那么以下说法正确的是（ ）。

正确答案: D

- A. 感觉是对客观事物的各种属性进行综合和解释的心理活动过程
- B. 知觉的产生主要来源于感觉器官的生理活动以及客观刺激的物理特性
- C. 知觉是人脑对客观事物的个别属性的反映
- D. 知觉会在许多对象中优先地把某些对象区分出来予以反映

14. 【认知心理学】人们会追随大众所同意的，将自己的意见默认否定，且不会主观上思考事件的意义，这种现象被称为（ ）。

正确答案: B

- A. 马太效应
- B. 羊群效应
- C. 霍桑效应
- D. 沙丁鱼效应

15. 【认知心理学】随着人口老龄化的趋势越来越严重，对这一群体的研究就显得更为重要，在老年人的产品使用行为过程中，本身受到生理条件的限制，设计符合老年人产品的三大重要因素不包括（ ）。

正确答案: D

- A. 功能优化
- B. 设计人性化
- C. 操作简捷化
- D. 安全健康

16. 【互联网常识】以下缩写与之对应的含义，有误的一项是（ ）。

正确答案: D

- A. IM：即时通讯
- B. SNS：社会性网络服务
- C. SEO：搜索引擎优化
- D. VC：虚拟现实

17. 【互联网常识】LBS 是指基于（ ）的服务。

正确答案: B

- A. 数据





- B. 位置
- C. 时间
- D. 用户

18. 【互联网常识】贴牌生产是指品牌生产者不直接生产产品，而是利用自己掌握的关键的核心技术负责设计和开发新产品，控制销售渠道，具体的加工任务通过合同订购的方式委托同类产品的其他厂家生产。其英文缩写是（ ）。

正确答案: B

- A. ODM
- B. OEM
- C. O2M
- D. DEM

19. 【互联网常识】以下网站与其主要电子商务模式对应错误的是（ ）

正确答案: B

- A. O2O：大众点评
- B. B2B：天猫
- C. B2C：京东
- D. C2C：淘宝

20. 【互联网常识】2016年3月1日起，微信提现进入收费时代。微信发布公告称，微信支付对累计超出（ ）元额度的提现交易收取手续费，超出部分按银行费率收取手续费。

正确答案: A

- A. 1000
- B. 2000
- C. 3000
- D. 5000

21. 【互联网常识】以下浏览器基于“Webkit内核”的是（ ）

正确答案: B

- A. IE
- B. Chrome
- C. Opera7
- D. FireFox



22. 【互联网常识】微博普通用户每条微博字数限是( )。

正确答案: D

- A. 70
- B. 120
- C. 140
- D. 2000

23. 【互联网常识】软件即服务是指 ( )。

正确答案: A

- A. SaaS
- B. PaaS
- C. IaaS
- D. IEO

24. 【互联网常识】C2A 是指 ( )。

正确答案: D

- A. 政府与公众之间的电子政务
- B. 分享电子商务的形式
- C. 面向市场营销的电子商务企业
- D. 消费者对行政机构的电子商务

25. 【互联网常识】“超级 APP” 是指 ( )。

正确答案: A

- A. 拥有庞大用户量的 APP
- B. 系统自带的 APP
- C. 功能齐全的 APP
- D. 多个 APP 集成的 APP

26. 【问答题】微信 (WeChat)是腾讯公司于 2011 年 1 月 21 日推出的一个为智能终端提供即时通讯服务的免费应用程序, 微信支持跨通信运营商、跨操作系统平台通过网络快速发送免费(需消耗少量网络流量)语音短信、视频、图片和文字, 同时, 也可以使用通过共享流媒体内容的资料和基于位置的社交插件“摇一摇”、“公众平台”等服务插件。

(1) 就最新版本的微信, 有哪些人性化的设计? 请至少列举至少三点, 并就其中一



点做简单分析。(请注明版本: IOS 版/安卓版/Windows 版等)

- (2) 有哪些可以改进的地方? 并说明原因。(请注明版本: IOS 版/安卓版/Windows 版等)

27. 【UI 设计】加法三原色中, 红和绿等量混合可以得到 ( )。

正确答案: B

- A. 蓝
- B. 黄
- C. 紫
- D. 青

28. 【UI 设计】栅格化, 是 PS 中的一个专业术语, 一般是指 ( )。

正确答案: A

- A. 将矢量图形转化为位图
- B. 将图形进行三维渲染
- C. 将文本转化为图形
- D. 将所有图层合并

29. 【UI 设计】常见的颜色模型包括 HSB、RGB、CMYK 和  $L^*a^*b^*$ 。基于人类对颜色的感觉、描述的是颜色的三个基本特征的模型是 ( )。

正确答案: A

- A. HSB
- B. RGB
- C. CMYK
- D.  $L^*a^*b^*$

30. 【UI 设计】Alpha 通道是计算机图形学中的术语, 指的是特别的通道。Alpha 通道是 ( ) 位灰度图像

正确答案: A

- A. 8
- B. 16
- C. 32
- D. 256



31. 【UI 设计】安全色 (safetycolour)，传递安全信息含义的颜色，包括红、蓝、黄、绿四种颜色。用于表示注意、警告的是 ( )。

正确答案: C

- A. 红
- B. 蓝
- C. 黄
- D. 绿

32. 【UI 设计】icon 是一种图标格式，用于系统图标、软件图标等，这种图标扩展名为 \*.icon、\*.ico。其尺寸最大为 ( )。

正确答案: B

- A. 16\*16 像素
- B. 32\*32 像素
- C. 64\*64 像素
- D. 72\*72 像素

33. 【UI 设计】图像格式即图像文件存放在记忆卡上的格式，通常有 JPEG、TIFF、RAW 等。以下不属于位图文件格式的是 ( )。

正确答案: D

- A. .psd
- B. .bmp
- C. .gif
- D. .ai

34. 【UI 设计】动态网页按钮一般有四个状态，其中不包括 ( )

正确答案: D

- A. Up (释放)
- B. Over (滑过)
- C. Down (按下)
- D. Scroll (滚动)

35. 【UI 设计】减淡工具是 AdobePhotoshop 图像处理软件中的一款工具，该工具可以 ( )。

正确答案: C





- A. 使图象中某些区域变暗
- B. 删除图象中的某些像素
- C. 使图象中某些区域变亮
- D. 使图象中某些区域的饱和度增加

36. 【UI 设计】位于页眉区域的，在页眉横幅图片上边或下边的一排水平按钮，它起着链接各个页面的作用的被称为（ ）。

正确答案: B

- A. 工具栏
- B. 导航栏
- C. 菜单栏
- D. 链接栏

37. 【UI 设计】Photoshop 中“新建图层”的快捷键是（ ）。

正确答案: A

- A. CTRL+SHIFT+N
- B. CTRL+N
- C. SHIFT+N
- D. CTRL+ALT+N

38. 【UI 设计】DPI 是指每英寸的像素，也就是扫描精度。国际上都是计算一平方英寸面积内像素的多少。目前手机屏幕所采用的 DPI 一般是（ ）。

正确答案: B

- A. 72 左右
- B. 300 左右
- C. 720 左右
- D. 1080 左右

39. 【UI 设计】用户接口（UserInterface，简称 UI）是系统和用户之间进行交互和信息交换的媒介，它实现信息的内部形式与人类可以接受形式之间的转换。用户界面通常指软件接口，即在人机联系的硬件设备接口基础上开发的软件。一般不包括（ ）。

正确答案: D

- A. 命令接口
- B. 程序接口



- C. 图形接口
- D. 数据接口

40. 【UI 设计】手机 UI 设计的菜单栏设计主要包括菜单设计，（ ）及状态栏设计。

正确答案: C


- A. 按钮
- B. 按钮选项
- C. 滚动条
- D. 页面切换

41. 【UI 设计】Photoshop 中“CTRL+ALT+Z”的操作是（ ）。


正确答案: B

- A. 向前一步
- B. 向后一步
- C. 组合
- D. 取消

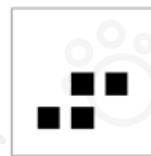
42. 【逻辑部分】根据图形规律，填入问号处的图形应该是（ ）。




A



B



C



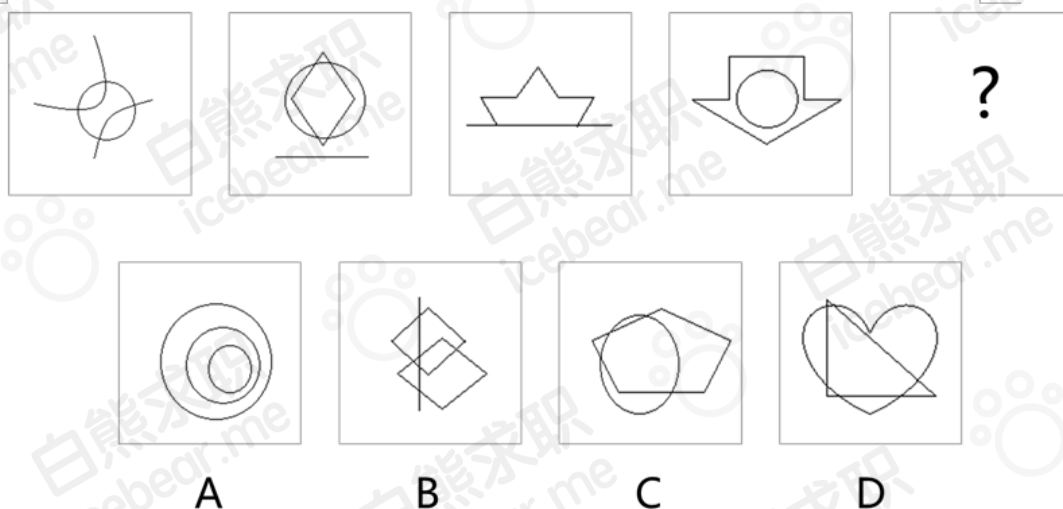
D

答案: D

解析: 从右往左、从上往下依次减少。



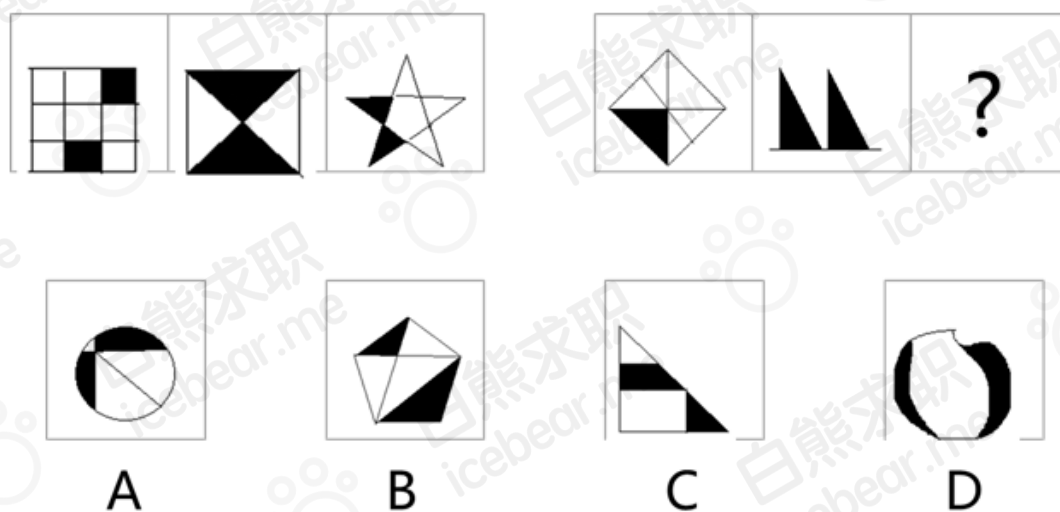
43. 【逻辑部分】根据图形规律，填入问号处的图形应该是（ ）



答案：A

解析：题干中图形都是轴对称图形，选项中只有 A 选项为轴对称图形。

44. 【逻辑部分】根据图形规律，填入问号处的图形应该是（ ）

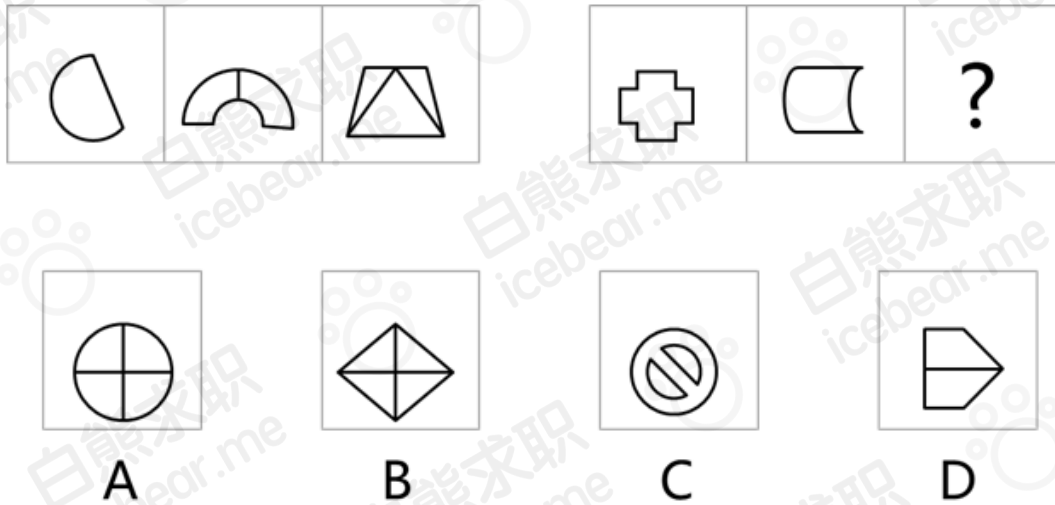


答案：A

解析：图一中三个小图都有两块大小相同的阴影部分，所以只有 A 选项符合。



45. 【逻辑部分】根据图形规律，填入问号处的图形应该是（ ）。



答案: D

解析: 第一个的空间数量加第二个的等于第三个的。

46. 【逻辑部分】根据下列数字规律，应填入括号处的数字是（ ）。

3, 0, 6, 6, 18, ( )

正确答案: B

- A. 24
- B. 30
- C. 36
- D. 44

47. 【逻辑部分】根据下列数字规律，应填入括号处的数字是（ ）。

10, 5, 25, 35, ( ), 155

正确答案: D

- A. 55
- B. 75
- C. 105
- D. 85

48. 【逻辑部分】根据下列数字规律，应填入括号处的数字是（ ）。

6, 12, 16, 26, 40, ( )

正确答案: D





- A. 48
- B. 52
- C. 56
- D. 64

49. 【逻辑部分】A、B、C、D、E 参加 1000 米比赛，对于比赛成绩，他们这样说，D 说：“我比 B 跑的快”，C 说：“E 在我前面通过终点”，A 说：“我的名次在 D 前面，在 C 后面”，下列说法中正确的是（ ）。

正确答案: A

- A. C 是本次比赛第二名
- B. B 比 C 跑的快
- C. A 是本次比赛第四名
- D. D 比 E 跑的快

50. 【逻辑部分】如果不是因为李勇，小文就被这家公司录用了。对于这句话以下判断正确的是（ ）。

正确答案: B

- A. 小文被录用了
- B. 小文没被录用
- C. 李勇被录用了
- D. 李勇没被录用

51. 【逻辑部分】某公司在招聘员工过程中，对 ABCDEF 六名应聘人员是否最终录用尚无定论，经综合各部门意见，人事部门确定如下方案：(1)A 和 B 至少录用一个；(2)如果 C 或 D 有一个不被录用，则 A 也不能录用；(3)如果 C 不能录用，那么 F 也不能录用；(4)只有录用 E，才能录用 B，人事部最终决定 E 不能被录用，以下选项（ ）说法正确。

正确答案: A

- A. 无法确定 F 是否录用
- B. A 不能录用
- C. 无法确定 C 和 D 能否录用
- D. B 可以录用

52. 【数字部分】一家三口中，父亲年龄是儿子的 6 倍，母亲比父亲小 2 岁，三口人的年龄和是 76 岁，母亲今年（ ）岁。



正确答案: B

- A. 36
- B. 34
- C. 30
- D. 28

53. 【数字部分】一条路如果由甲乙两个工程队共同修，需要 30 天。甲工程队单独修了 5 天后，乙队与甲队共同修了 6 天，而后乙队调走，甲队又单独修了 35 天才完成。若自始至终，由甲队单独修路，则需要（ ）天。

正确答案: B

- A. 45
- B. 50
- C. 55
- D. 60

54. 【数字部分】甲的工作是每 4 天休息一天，乙是每 5 天休息一天，丙是每 6 天休息一天，如果甲乙丙在某个星期一同时休息，那么下次同时休息是（ ）。

正确答案: C

- A. 星期日
- B. 星期六
- C. 星期五
- D. 星期四

55. 【数字部分】AB 两人在 400 米的环形跑道上练习跑步，A 的速度为 4.8 米/秒，B 的速度为 4 米/秒，A 跑（ ）圈后可以领先小陈一圈。

正确答案: C

- A. 10
- B. 8
- C. 6
- D. 5

56. 【数字部分】某银行咨询专员，周一接听电话 83 个，周二接听电话 74 个，周三接听电话 71 个，周四接听电话 64 个，为了完成本周工作量，周五接听的电话比这一周日平均量还多 3.2 个，该咨询专员周五接听了电话（ ）个。



正确答案: C

- A. 74
- B. 75
- C. 77
- D. 80

57. 【言语部分】将下列各句重新排列组合：

- (1) 在造成交通拥堵的同时，汽车排放的尾气弥漫大街小巷。
- (2) 于是，在节假日，人们纷纷走出城市到郊外的公园绿地，去那里呼吸清新的空气。
- (3) 随着城市中的汽车越来越多。
- (4) 怪异的气味令人头昏、恶心，影响人的身心健康。

排列组合最连贯的一项是（ ）。

正确答案: C

- A. 4-2-3-1
- B. 3-4-1-2
- C. 3-1-4-2
- D. 4-1-3-2

58. 【言语部分】将下列各句重新排列组合：

- (1) 两国领导人就构建不冲突不对抗、相互尊重、合作共赢的新型大国关系达成重要共识。
- (2) 这样的局面来之不易，需要双方倍加珍惜、共同维护。
- (3) 在此基础上两军各领域交流合作不断深化，并构建了相关互信机制。
- (4) 开辟了发展两国关系唯一正确的道路。

排列组合最连贯的一项是（ ）。

正确答案: A

- A. 1-4-3-2
- B. 1-4-2-3
- C. 1-2-3-4
- D. 1-3-4-2

59. 【言语部分】吸烟不仅危害吸烟者自己，也会危害吸烟者周围的人。据曼尼托巴省医学会所言，二手烟是导致可预防性死亡的第三大主因（仅跟吸烟和喝酒之后）。他们还声



称，烟中含有 4000 多种化学物质，其中已知有 50 种与癌症有关。二手烟已被和心脏疾病及呼吸道疾病、肺癌，乳腺癌、宫颈癌以及鼻窦癌、中风及流产联系在一起。吸烟对孩子的危险包括婴儿猝死综合征、胎儿发育障碍、支气管炎、肺炎、哮喘及中耳疾病，还有一些长期或短期的健康问题。非吸烟者没必要承担吸烟导致的恶果。下列各项符合文意的是（ ）。

正确答案: C

- A. 吸烟的人不会受到二手烟的危害
- B. 心脏疾病、呼吸道疾病、多种癌症都是由二手烟引起的
- C. 戒除香烟有助于胎儿的健康发育
- D. 二手烟的危害要比吸烟大

60. 【言语部分】人类最高的存在方式应该是美的存在，甚至美就是人生的目的。人生，其实就是模仿美。人是在对美的追求中成为人的。而诗歌和文字正是使人类区别于其他物种的标志之一，所以应该成为人类的追求方向和目标。针对这段文字，以下说法不正确的是（ ）。

正确答案: D

- A. 追求美是人类和其他物种的区别
- B. 诗歌和文字是追求美的体现
- C. 追求美的过程是人类自我实现的过程
- D. 人生就是模仿的过程

61. 【言语部分】邮驿是官府的通信组织，只许传送官府的文件，而不允许传送私人信件。由于生产的发展和生活的需要，人们对通信的要求越来越迫切，出外经商的、做工的以及战乱年代被迫出征的战士和远离家乡逃荒避难的人们，都需要和家人亲友通信。特别是各地商人，为了互相交流商情、商谈贸易、寄递账单等都迫切需要通信。于是民间传递信件的业务就应运而生了。这段话主要阐述了（ ）。

正确答案: C

- A. 邮驿的发展
- B. 邮驿和民间传递信件的区别
- C. 民间传递信件业务的产生原因
- D. 民间传递信件的优势





更多  
礼包  
扫码关注



[内推](#) [招聘岗位](#) [资料包](#) [课程](#) [社群](#)

进入腾讯阿里的简历模板  
互联网校招笔面试真题  
数据分析资料包  
2000份行业研究报告  
... ..  
**近30份实用资料等你拿!**

A white bear holding a large QR code.

扫码关注校招日历

